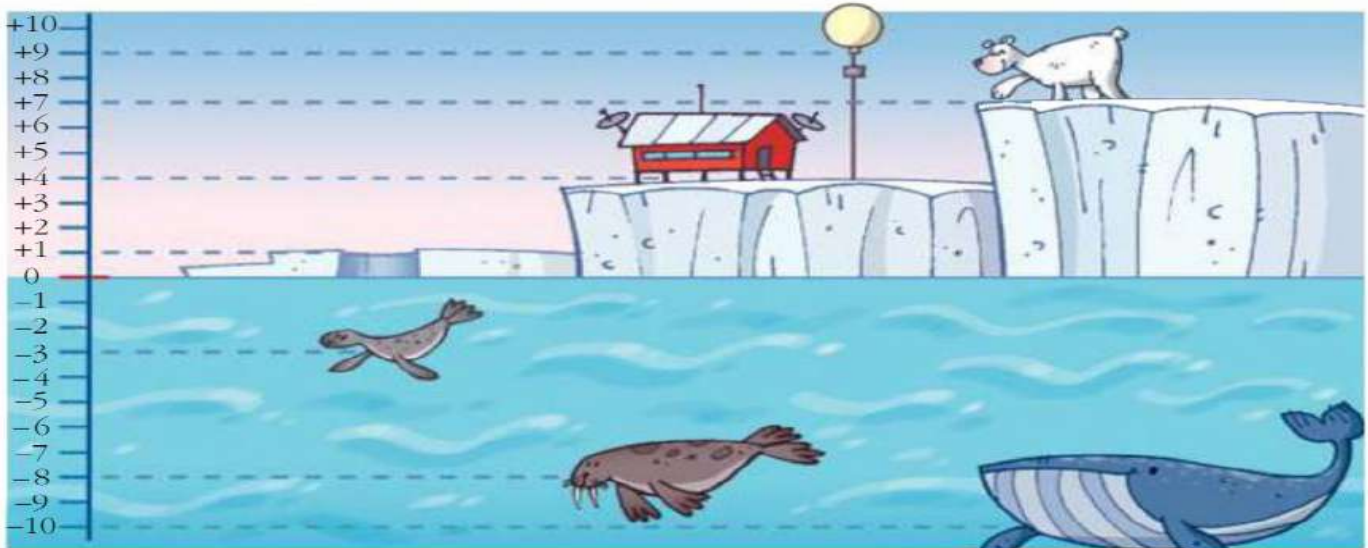




# 1



Marian y sus amigos Nauja, Uvanuk, Sedna y Naduk se encuentran en la estación científica que está estudiando cómo abordar el problema del cambio climático, que es la principal amenaza del Ártico, que está provocando la rápida desaparición de su capa de hielo; los científicos predicen que dentro de 10 o 20 años se derretirá la capa de hielo y esto afectará al clima del planeta.



- 1 Observa la ilustración y representa cada situación con un número entero:
  - a) Profundidad de la morsa.
  - b) Posición del oso blanco.
  - c) Altura del globo meteorológico.
- 2 ¿En qué punto está situado el edificio de la estación científica?
- 3 ¿Cuántos metros mide el cable que sujeta el globo meteorológico?
- 4 ¿Cuántos metros deberá ascender la morsa para respirar?
- 5 ¿Cuál de estas sumas da como resultado los metros que asciende la morsa para respirar?  
 $(+6) + (+2)$      $(-6) + (+2)$      $(-6) + (-2)$      $(+6) + (-2)$
- 6 Pensad en, al menos, tres situaciones en las que tenga utilidad y sentido el empleo de los números negativos. Redactad dichas situaciones y compartidlas con el resto de la clase en una puesta en común.



## FOLIO GIRATORIO

### 2 La bandera europea



Es el símbolo de la unidad e identidad de Europa.

¿Sabes por qué las estrellas están colocadas en círculo? Porque representa la unidad, la solidaridad y la armonía entre los pueblos de Europa.

¿Cuántas estrellas tiene? \_\_\_\_

Ese número es tradicionalmente el símbolo de la perfección, lo completo y la unidad. También representa los meses del año y el número de horas que aparecen en la cara del reloj.

El número de estrellas no tiene nada que ver con el número de Estados miembros de la Unión Europea. Por lo tanto la bandera no cambia con las ampliaciones de la UE.


Un mundo de estrellas

Hay muchos tipos de estrellas de 4, 5, 6 puntas.

La de la bandera de la Unión Europea tiene 5 puntas.

Fíjate en este recuadro.

¿Cuántas estrellas de cinco puntas hay?



¿Por qué se necesitan banderas?  
¿Para qué son los símbolos?

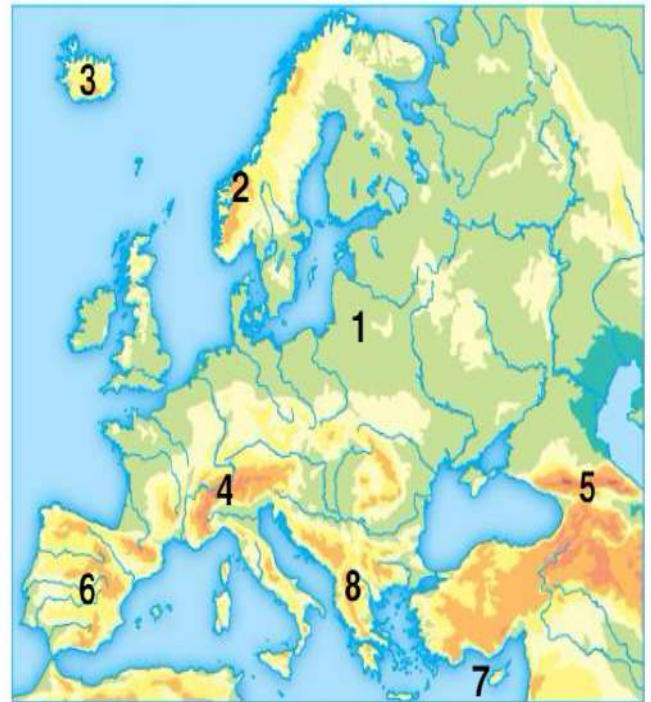


3

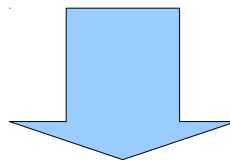


1 **Analiza** el mapa y, en tu cuaderno, relaciona cada número del mapa con el accidente de relieve que le corresponde.

- a) Cáucaso
- b) Gran Llanura Europea
- c) Península balcánica
- d) Montes Escandinavos
- e) Islandia
- f) Península ibérica
- g) Alpes
- h) Chipre



# RESPUESTAS



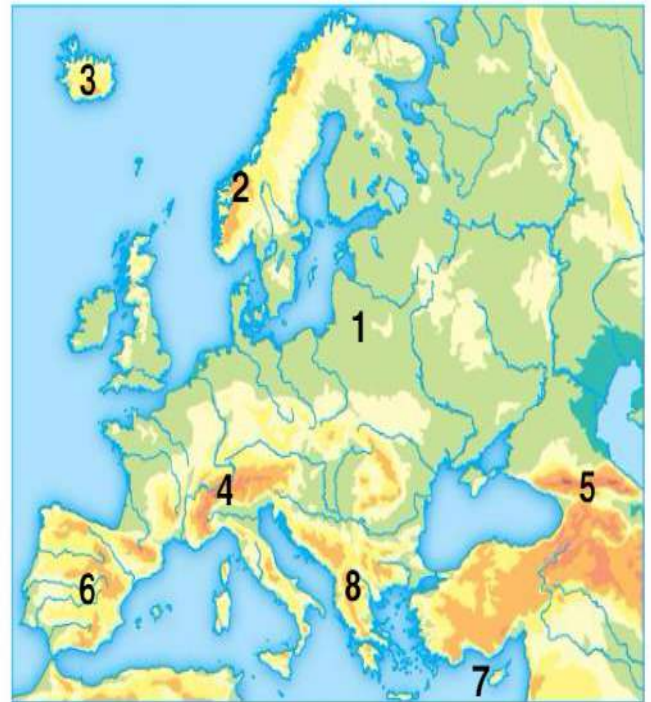


3

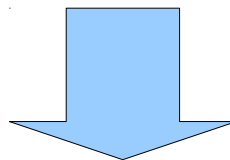


1 **Analiza** el mapa y, en tu cuaderno, relaciona cada número del mapa con el accidente de relieve que le corresponde.

- a) Cáucaso
- b) Gran Llanura Europea
- c) Península balcánica
- d) Montes Escandinavos
- e) Islandia
- f) Península ibérica
- g) Alpes
- h) Chipre



# RESPUESTAS



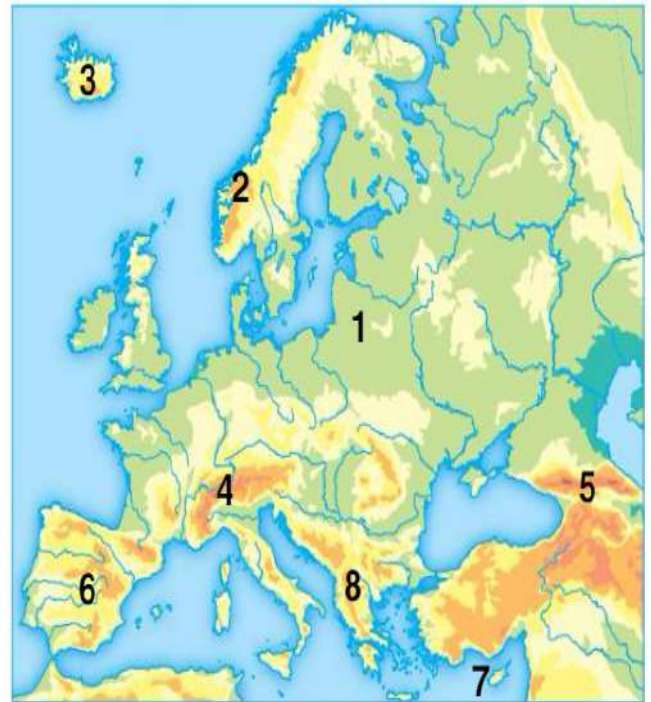


3

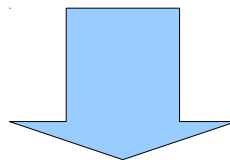


1 **Analiza** el mapa y, en tu cuaderno, relaciona cada número del mapa con el accidente de relieve que le corresponde.

- a) Cáucaso
- b) Gran Llanura Europea
- c) Península balcánica
- d) Montes Escandinavos
- e) Islandia
- f) Península ibérica
- g) Alpes
- h) Chipre



# RESPUESTAS



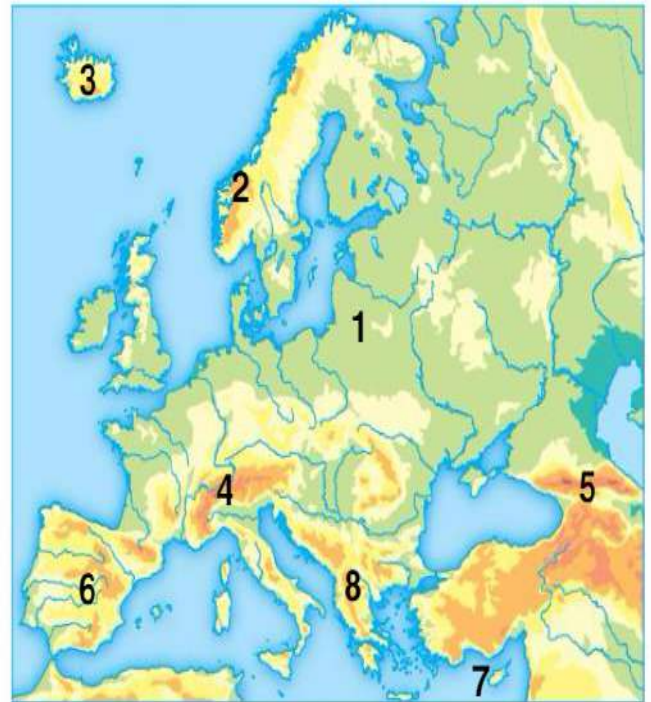


3

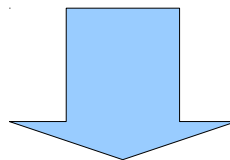


1 **Analiza** el mapa y, en tu cuaderno, relaciona cada número del mapa con el accidente de relieve que le corresponde.

- a) Cáucaso
- b) Gran Llanura Europea
- c) Península balcánica
- d) Montes Escandinavos
- e) Islandia
- f) Península ibérica
- g) Alpes
- h) Chipre



# RESPUESTAS





# Eurosopa

Trata de encontrar los nombres de los 27 países de la Unión Europea teniendo en cuenta que se pueden leer horizontal, vertical y diagonalmente, y en uno u otro sentido.

F	Ñ	I	V	L	K	B	M	K	A	V	X	H	S	A	I	A	L	H	Y
N	T	Ñ	P	U	S	L	V	A	V	I	E	B	D	P	R	F	U	Y	G
Y	A	F	A	X	U	E	I	C	P	S	R	N	A	E	P	N	L	A	D
L	T	Ñ	I	E	C	O	Y	T	R	O	A	T	P	F	G	S	A	C	L
D	L	D	S	M	M	G	M	A	U	L	L	U	S	R	Z	I	R	I	O
I	A	I	E	B	V	I	N	J	R	A	B	O	I	U	U	R	E	G	L
T	M	R	S	U	H	D	R	I	M	L	N	A	N	Q	A	Q	I	L	V
A	C	G	B	R	M	F	H	N	I	E	H	I	A	I	C	G	N	E	B
L	F	Y	A	G	Z	X	R	C	A	T	H	V	A	R	A	U	O	B	U
I	V	N	J	O	X	P	A	A	F	Ñ	O	R	C	M	I	S	U	R	L
A	F	J	O	Z	R	C	R	Z	N	L	X	E	T	Ñ	N	S	N	J	G
B	I	I	S	W	H	H	Z	O	S	C	E	L	E	T	O	N	I	A	A
R	B	D	N	E	L	D	W	E	P	S	I	K	A	I	T	Y	D	L	R
H	M	L	C	L	S	L	D	H	L	O	V	A	G	Ñ	S	O	O	E	I
Z	A	A	Z	U	A	X	P	O	P	P	R	J	J	G	E	X	F	M	A
C	I	M	T	O	K	N	V	B	S	B	C	T	N	F	L	W	Z	A	T
H	C	I	I	A	F	E	D	J	Z	V	V	K	U	M	R	F	H	N	Y
I	E	Z	O	X	N	E	A	I	N	A	M	U	R	G	R	E	C	I	A
P	U	Ñ	N	I	R	E	A	R	A	Y	W	J	F	I	A	L	X	A	P
R	S	V	A	R	W	X	N	P	O	Y	N	O	W	R	G	L	O	Q	I
E	E	S	P	A	Ñ	A	L	P	X	L	A	C	R	A	M	A	N	I	D

ALEMANIA  
 CHIPRE  
 ESPAÑA  
 GRECIA  
 LETONIA  
 PAÍSES BAJOS  
 REPÚBLICA CHECA

AUSTRIA  
 DINAMARCA  
 ESTONIA  
 HUNGRÍA  
 LITUANIA  
 POLONIA  
 RUMANÍA

BÉLGICA  
 ESLOVAQUIA  
 FINLANDIA  
 IRLANDA  
 LUXEMBURGO  
 PORTUGAL  
 SUECIA

BULGARIA  
 ESLOVENIA  
 FRANCIA  
 ITALIA  
 MALTA  
 REINO UNIDO

Chipre



# Eurosopa

Trata de encontrar los nombres de los 27 países de la Unión Europea teniendo en cuenta que se pueden leer horizontal, vertical y diagonalmente, y en uno u otro sentido.

F	Ñ	I	V	L	K	B	M	K	A	V	X	H	S	A	I	A	L	H	Y
N	T	Ñ	P	U	S	L	V	A	V	I	E	B	D	P	R	F	U	Y	G
Y	A	F	A	X	U	E	I	C	P	S	R	N	A	E	P	N	L	A	D
L	T	Ñ	I	E	C	O	Y	T	R	O	A	T	P	F	G	S	A	C	L
D	L	D	S	M	M	G	M	A	U	L	L	U	S	R	Z	I	R	I	O
I	A	I	E	B	V	I	N	J	R	A	B	O	I	U	U	R	E	G	L
T	M	R	S	U	H	D	R	I	M	L	N	A	N	Q	A	Q	I	L	V
A	C	G	B	R	M	F	H	N	I	E	H	I	A	I	C	G	N	E	B
L	F	Y	A	G	Z	X	R	C	A	T	H	V	A	R	A	U	O	B	U
I	V	N	J	O	X	P	A	A	F	Ñ	O	R	C	M	I	S	U	R	L
A	F	J	O	Z	R	C	R	Z	N	L	X	E	T	Ñ	N	S	N	J	G
B	I	I	S	W	H	H	Z	O	S	C	E	L	E	T	O	N	I	A	A
R	B	D	N	E	L	D	W	E	P	S	I	K	A	I	T	Y	D	L	R
H	M	L	C	L	S	L	D	H	L	O	V	A	G	Ñ	S	O	O	E	I
Z	A	A	Z	U	A	X	P	O	P	P	R	J	J	G	E	X	F	M	A
C	I	M	T	O	K	N	V	B	S	B	C	T	N	F	L	W	Z	A	T
H	C	I	I	A	F	E	D	J	Z	V	V	K	U	M	R	F	H	N	Y
I	E	Z	O	X	N	E	A	I	N	A	M	U	R	G	R	E	C	I	A
P	U	Ñ	N	I	R	E	A	R	A	Y	W	J	F	I	A	L	X	A	P
R	S	V	A	R	W	X	N	P	O	Y	N	O	W	R	G	L	O	Q	I
E	E	S	P	A	Ñ	A	L	P	X	L	A	C	R	A	M	A	N	I	D

ALEMANIA  
 CHIPRE  
 ESPAÑA  
 GRECIA  
 LETONIA  
 PAÍSES BAJOS  
 REPÚBLICA CHECA

AUSTRIA  
 DINAMARCA  
 ESTONIA  
 HUNGRÍA  
 LITUANIA  
 POLONIA  
 RUMANÍA

BÉLGICA  
 ESLOVAQUIA  
 FINLANDIA  
 IRLANDA  
 LUXEMBURGO  
 PORTUGAL  
 SUECIA

BULGARIA  
 ESLOVENIA  
 FRANCIA  
 ITALIA  
 MALTA  
 REINO UNIDO

Chipre





# Eurosopa

Trata de encontrar los nombres de los 27 países de la Unión Europea teniendo en cuenta que se pueden leer horizontal, vertical y diagonalmente, y en uno u otro sentido.



ALEMANIA  
 CHIPRE  
 ESPAÑA  
 GRECIA  
 LETONIA  
 PAÍSES BAJOS  
 REPÚBLICA CHECA

AUSTRIA  
 DINAMARCA  
 ESTONIA  
 HUNGRÍA  
 LITUANIA  
 POLONIA  
 RUMANÍA

BÉLGICA  
 ESLOVAQUIA  
 FINLANDIA  
 IRLANDA  
 LUXEMBURGO  
 PORTUGAL  
 SUECIA

BULGARIA  
 ESLOVENIA  
 FRANCIA  
 ITALIA  
 MALTA  
 REINO UNIDO

Chipre



# Eurosopa

Trata de encontrar los nombres de los 27 países de la Unión Europea teniendo en cuenta que se pueden leer horizontal, vertical y diagonalmente, y en uno u otro sentido.



ALEMANIA  
 CHIPRE  
 ESPAÑA  
 GRECIA  
 LETONIA  
 PAÍSES BAJOS  
 REPÚBLICA CHECA

AUSTRIA  
 DINAMARCA  
 ESTONIA  
 HUNGRÍA  
 LITUANIA  
 POLONIA  
 RUMANÍA

BÉLGICA  
 ESLOVAQUIA  
 FINLANDIA  
 IRLANDA  
 LUXEMBURGO  
 PORTUGAL  
 SUECIA

BULGARIA  
 ESLOVENIA  
 FRANCIA  
 ITALIA  
 MALTA  
 REINO UNIDO

Chipre